



دبستان دخترانه غیر دولتی مبتکر اندیشمند
(تیزهوشان - هوشمند - دوزبانه)

نام و نام خانوادگی	پایه	تاریخ	تکلیف
	اول	۹۷/۶/۱	یک چهارم اول کتاب ریاضی و علوم و فارسی

فارسی

۱- باران از چه می بارد؟

۲- چه چیزهایی ابر را حرکت می دهد؟

۳- اگر باران نبارد چه می شود؟

۴- صداهای هر کلمه را در جای خالی بنویسید.

آباد : ○ ○ ○ ○

آدب : ○ ○ ○ ○

۵- جمله ها را با کلمات داده شده کامل کنید.

(دندان - تنور - باران - آفتاب)

مادر در آرام آمد .

در آن نان است .

من در سبد دارم .

برادرم درد دارد .

۶- مرتب کنید.

..... می زند - تیر - سرباز

..... دامن - می دوزد - زری

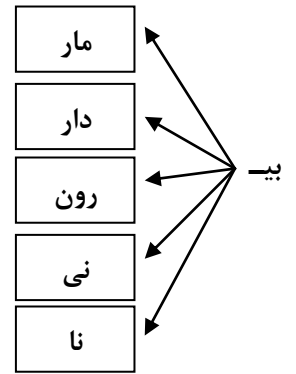
۷- با توجه به جمله ی زیر بقیه ی جمله ها را کامل کنید.

مادرم در آش سبزی می ریزد.

او

من

۸- ترکیب کنید و کلمه بسازید.



۹- جمله بنویسید.

= روستا

= دارو

۱۰- کدام کلمه به درستی در جدول بخش و صداکشی شده است؟

دارم

سوت

بست

رَم			دا	
م	ـَ	ر	ا	د

ت	سو	
ت	و	س

ت	سـ	بـ	
ت	سـ	ـَ	ب

علوم

۱۱- سایه چگونه تشکیل می شود؟

۱۲- در صبح و عصر اندازه ی سایه ها چگونه است؟

الف) بلندتر ب) کوتاه تر ج) فرقی ندارد

۱۳- کدام یک دیرتر به زمین می رسد؟

الف) برگ ب) سنگ ج) مداد

۱۴- از کدام حس برای تشخیص مزه ها استفاده می شود؟

الف) بینایی ب) چشایی ج) لامسه

۱۵- حواس ۵ گانه را نام ببر.

۱۶- با کدام عضو بوها را تشخیص می دهیم؟

۱۷- برای این که سالم و قوی باشیم چه کارهایی را باید انجام دهیم؟

۱۸- وعده های غذا را نام ببرید؟


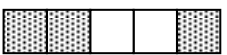
۱۹- کدام وعده ی غذایی از همه مهم تر است؟

۲۰- از کدام وسیله برای دیدن میکروب استفاده می شود؟

- الف) چشم ب) میکروسکوپ ج) عینک

ریاضی

۲۱- کدام الگو درست است؟

- الف)  (الف) ب)  (ب) ج)  (ج)







۲۲- به اندازه ی مثلث ها از دایره ها رنگ بزنید.



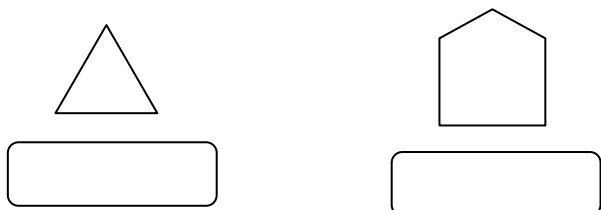
۲۳- رنگ کردن شکل ها را همان طور که هست ادامه دهید.



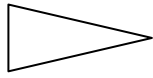
۲۴- جدول را با شکل مناسب کامل کنید.

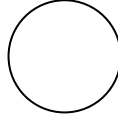
۲۵- به تعداد گوشه های هر شکل چوب خط بکشید.



۲۶- تعداد لبه های هر شکل را زیر آن بنویسید.



.....



.....

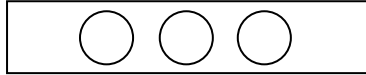


.....


۲۷- به اندازه ی شکل های سمت چپ انگشتان خود را باز کنید و به تعداد شکل های سمت راست انگشتان خود را ببندید ، چند تا انگشت شما بازمانده است ؟ چوب خط آن را بکشید.



۲۸- تعداد شکل های سمت راست و چپ با هم چند تا می شود ؟



۲۹- به تعداد چوب خط داده شده شکل بکشید.



۳۰- با استفاده از شابلون و شکل های مربع و مستطیل و مثلث و دایره یک شکل بکشید.

موفق باشید.