



تکلیف	تاریخ	پایه	نام و نام خانوادگی
یک چهارم، چهارم کتاب ریاضی و علوم و فارسی	۹۷/۶/۲۲	چهارم	

فارسی

۱- معنی بیت ها و عبارت های زیر را بنویسید.

مادر موسی، چو موسی را به نیل درفکند از گفته ی ربّ جلیل

به کلی رشته ی امید بگسست در آن دم دل به امید خدا بست

دانا چون طبله ی عطار است، خاموش و هنر نمای

۲- قبل از هر یک از کلمه های داده شده، یک کلمه اضافه کنید و جمله بسازید.

الف) ساحل :

الف) حق :

الف) باطل :

۳- کلمه های به هم ریخته را مرتب کنید و جمله ی آن را بنویسید.

و / اندوخت / یکی / نخورد / آن که / آموخت / دیگر / و / آن که / و / نکرد

عمل / نادانی / چندان / خوانی / چون / نیست / در / علم / که / تو / بیشتر

۴- نمودار جمله های زیر را رسم کنید.

علی گلدان را شکست

پدر زهرا را از مدرسه به خانه آورد.

۵- هم معنی کلمه های زیر را بنویسید.

خلاص : یک غازی : بشتافت :

سحر آمیز : صید : جست :

۶- در متن زیر چند غلط املایی وجود دارد؟ درست آن ها را بنویسید.

خلاصه، هر چه به روز ورود آن مهمان محربان نزدیک می شدیم، طپش قلب ها تندتر می شد. خوشحال و با نشات به حیات

مدرسه رفتیم. بچه ها مرطب به مسوولان مدرسه می گفتند: « پس کی به سمت محل دیدار و سخن رانی حرکت می کنیم.»

۷- با توجه به مفهوم درس شیر و موش یک ضرب المثل بنویسید.

۸- کدام دسته از کلمه های زیر هم خانواده هستند؟

(الف) شهدا - شاهد - مشهود (ب) شعر - شاعر - شهود

(ج) مظلوم - ظلم - ظالم (د) قصد - مقصود - قصور

۹- در بیت های زیر کلمه درست را انتخاب کنید.

خدایا در زبان من (صواب - ثواب) آر

(سنای - ثنای) ذات پاکت می سرایم

۱۰- شاعر هر کدام از شعرهای زیر را بنویسید.

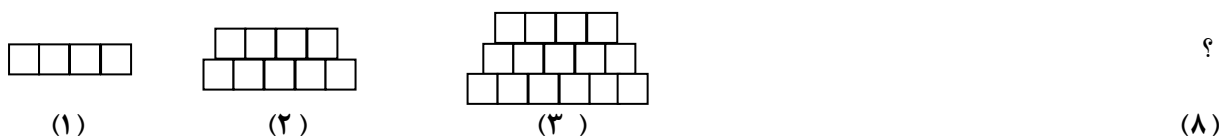
نیایش : خرد و دانش :

اتفاق ساده : لطف حق :

ریاضی

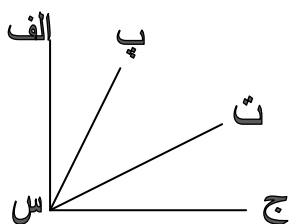
۱- سومین رقم از سمت چپ عدد ۷ رقمی در طبقه ی قرار دارد.

۲- در هشتمین شکل چند آجر به کار می رود؟ راه حل خود را بنویسید.



۳- هر زاویه از دو و یک به وجود می آید .

۴- در شکل زیر چند زاویه دیده می شود نام ببرید.



۵- مهسا هر روز حدود ساعت ۷:۱۵ به مدرسه می رسد. فاصله ی خانه ی مهسا تا مدرسه حدود ۳۰ دقیقه است. او چه ساعتی از

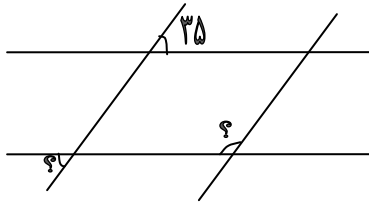
خانه خارج می شود؟

۶- بزرگترین عدد ۵ رقمی با ارقام غیر تکراری بر کدام یک از ارقام ۲ و ۳ و ۵ بخش پذیر است؟

(الف) ۲ (ب) ۳ (ج) ۵ (د) ۲ و ۵

۷- نگار ۵ عدد دفترچه را ۳۵۰۰ تومان خریده است. اگر نگار بخواهد ۱۵ عدد از همان دفترچه را بخرد چه مبلغی باید بپردازد؟

۸- اندازه ی زاویه های مشخص شده را در شکل زیر به دست آورید.



۹- داخل یک کیسه ۱۰ مهره آبی ، ۱۰ مهره ی سبز و ۱۰ مهره ی قرمز است . حداقل چند مهره برداریم تا از یک رنگ ۲ مهره داشته باشیم ؟

۶ (د)

۴ (ج)

۳ (ب)

۲ (الف)

علوم

۱- جملات زیر را ادامه دهید.

الف) وظیفه ی کلیه ها :

ب) مهتاب :

ج) کاج و سرو در گروه

۲- اندام دفعی بدن را نام ببرید.

۳- دستگاه گردش خون ما همکاری نزدیکی با دستگاه دارد.

د) حرکتی

ج) گوارش

ب) دفع

الف) تنفس

۴- ویژگی گروه حشرات را تعریف کنید و چند حشره که دو بال دارند را نام ببرید.

۵- کدامیک با بقیه متفاوت است ؟

د) خرچنگ

ج) هشت پا

ب) مارمولک

الف) کرم خاکی

۶-گرده افشانی را تعریف کنید و بگویید چه عواملی به گرده افشانی کمک می کند؟

۷-شبکه غذایی را تعریف کنید.

۸-کدامیک در دومین حلقه ی زنجیره ی غذایی جای ندارد؟

الف)روباه ب)جوجه ج)موش د)خرگوش

۹-جاهای خالی را کامل کنید.

ریشه ی گیاهان تک لپه ای است .

سنگ های در اثر فشار و گرمای زیاد تشکیل می شوند.

خرخاکی و هزارپا را در جاهای می توان یافت.

قارچ ها و سرخس ها با تولید مثل می کنند.

۱۰-جملات درست و نادرست را مشخص کنید.

الف) عطارد به سیاره شامگاهی و صبحگاهی معروف است . ()

ب)هر زنجیره ی غذایی دست کم ۴ حلقه دارد. ()

ج)در هنگام دویدن تعداد ضربان نبض از قلب بیشتر است . ()

د)وظیفه ی پاکسازی خون به عهده ی کلیه است . ()

ه)کلیه ها و شش ها ، اندام های دوتایی بدن محسوب می شوند. ()

و)همه ی مواد گرما را به خوبی انتقال می دهند. ()

ز)الکتریسته در یک مسیر بسته جاری می شود . ()

ح)مواد در محلول ، پس از مدتی ته نشین می شوند. ()