



تکلیف	تاریخ	پایه	نام و نام خانوادگی
یک چهارم، چهارم کتاب ریاضی و علوم و فارسی	۹۲/۶/۲۲	اول	

ریاضی

$$۲۹ > \dots\dots\dots$$

(ج) ۲۸

۱- در جاهای خالی کدام عدد را می توان نوشت؟

(ب) ۲۹

(الف) ۹۲

۲- اگر یکی به من اضافه کنید ۵۰ می شوم. من چه عددی هستم؟

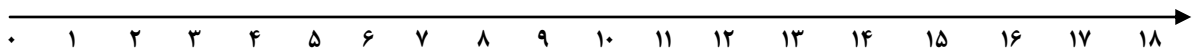
(ج) ۵۱

(ب) ۴۹

(الف) ۹۴

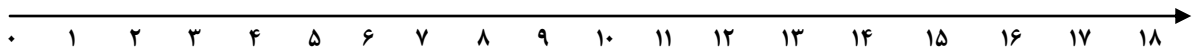
۳- جمع زیر را روی محور نمایش دهید و حاصل آن را به دست آورید.

$$۱۲ + ۴ =$$



۴- تفریق زیر را روی محور نمایش دهید و حاصل آن را به دست آورید.

$$۱۶ - ۹ =$$



۵- جمع و تفریق های زیر را انجام دهید.

$$۱۰ + ۵ + ۵ - ۲ =$$

$$۲۰ + ۳۰ - ۱۰ =$$

$$۴۰ - ۲۰ + ۵ + ۵ =$$

۶- کدام گزینه صحیح است؟

(ج) $۲۰ + ۱۰ < ۲۰ + ۲۰$

(ب) $۲۰ + ۱۰ > ۲۰ + ۲۰$

(الف) $۲۰ + ۲۰ < ۱۰ + ۲۰$

۷- لیلا یک کتاب داستان ۲۵ صفحه ای داشت. ۱۰ صفحه ی آن را دیروز و ۵ صفحه ی آن را امروز خوانده است. چند صفحه از کتاب را نخوانده است؟

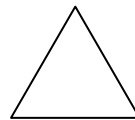
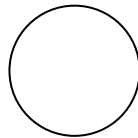
۸- جدول روبرو را با عدد و حروف کامل کنید.

عدد	حروف
۶۸	
	چهل و چهار
۷۸	

۹- ساعت بین و است.



۱۰- نام شکل های زیر را بنویسید.



.....

.....

.....

.....

فارسی

۱- کدام دسته از کلمات با نشانه ی (ث) کامل می شود؟

(ج) م..... ل - قر.....

(ب) ورت - کلا.....

الف) ل..... ه - باع.....

۲- روز مبعث چه روزی است؟

۳- جمله ی زیر با کدام کلمه کامل می شود؟

معلم جعبه ی مدادها را روی میز

(ج) گذشت

(ب) می گذارم

الف) گذاشت

۴- باد چگونه تولید می شود؟

۵- کدام یک از وسایل زیر هم نور دارد و هم گرما؟

ج) خورشید

ب) اتو

الف) سماور

۶- کدام رنگ لباس برای هوای گرم بهتر است؟

۷- چه چیزی حرکت را آسان می کند؟

۸- کدام قسمت آهن ربا قوی تر است؟

۹- در زمان های قدیم مردم برای روشن کردن خانه ها از کدام یک از وسایل زیر استفاده می کردند؟

ج) لامپ

ب) لوستر

الف) آتش

۱۰- کدام یک به آهنربا نمی چسبد؟

ج) پونز

ب) سوزن

الف) سکه

موفق باشید.