



دبستان دخترانه غیر دولتی مبتکر اندیشمند
(تیزهوشان - هوشمند - دوزبانه)

نام و نام خانوادگی	پایه	تاریخ	تکلیف
	سوم	۹۷/۶/۱۵	یک چهارم سوم کتاب ریاضی و علوم و فارسی

فارسی

۱- هم خانواده ی کلمات زیر را بنویسید.

شاکر ، شاعر ، ضربه ،
مهر ، توجه ، حق ،

۲- جاهای خالی را کامل کنید.

اکنون من و مادرم ، نامه ی پدر را
دانش آموزان از معلم خود تشکر
سارا حکایت را
من دیروز آن منظره ی زیبا را تماشا
آموزگار در کلاس ، کتاب داستان

۳- املا ی کدام گزینه صحیح نیست ؟

الف) خواب گذار ب) سپاس گزار ج) خدمت گزار د) نماز گزار

۴- کدامیک با بقیه متفاوت است ؟

الف) سمندر ب) هنرمند ج) ثروتمند د) سودمند

۵- کدام یک برای کلمه ی « او » مناسب نیست ؟

الف) شنیدی ب) شنید ج) رفت د) آمد

۶- مفهوم کلمه ی « آزرده » کدام گزینه است ؟

الف) راحتی ب) آسایش ج) آرامش د) رنجیده

۷- کدام کلمه جمع نیست ؟

الف) آثار ب) سماط ج) امرا د) خاطرات

۸- زمان جمله های زیر را مشخص کنید.

سرزمینی که به فرهنگ جهان خدمت کرد.
هر جا که آدم ها وجود داشته باشند ، قانون هم پیدا می شود

۹- کدام فعل با بقیه فرق دارد؟

د) می خوانم

ج) خورده بودم

ب) می روم

الف) هستم

۱۰- کلمه ی متفاوت ، کدام است؟

د) مکش

ج) خط کش

ب) آبکش

الف) زحمتکش

ریاضی

۱- در جاهای خالی عدد مناسب بگذارید تا تساوی های زیر صحیح باشد.

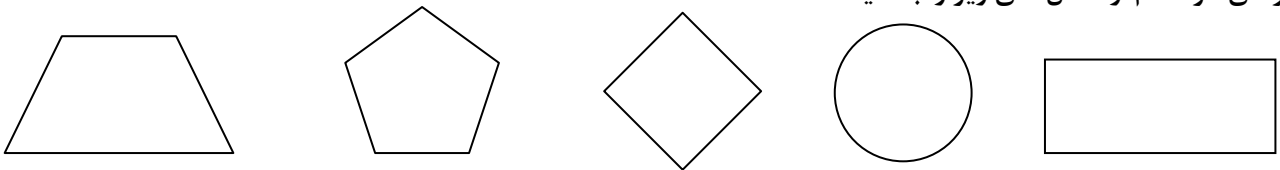
$$(\dots \times 6) + (6 \times 5) = 54 + 30 = \square$$

$$(2 \times 6) + (2 \times \square) = (\square \times 9)$$

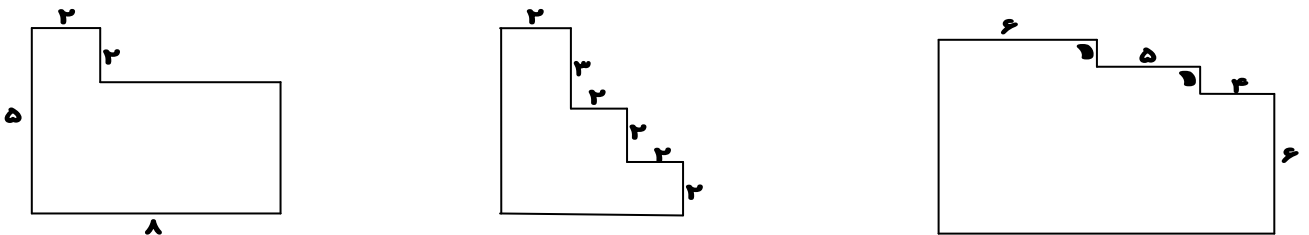
$$4 \times (5 + 3) = 4 \times \square = \square$$

$$(15 + 3) \div (3 \times 2) = \square \div \square = \square$$

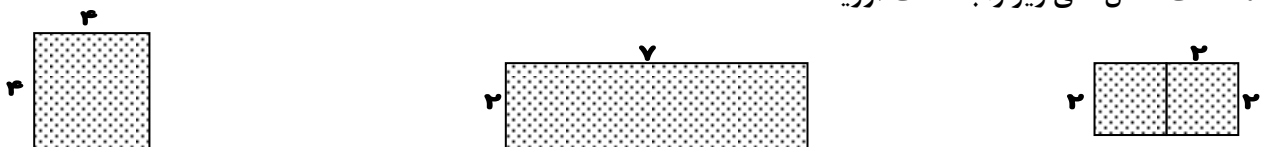
۲- قطرهای هر کدام از شکل های زیر را بکشید.



۳- بعد از پیدا کردن اندازه ی همه ضلع ها ، محیط شکل های زیر را بدست آورید.

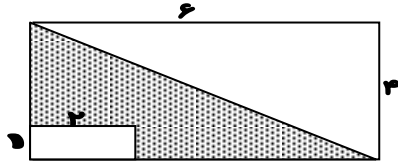


۴- مساحت شکل های زیر را به دست آورید.



۵- طول و عرض اتاق خود را اندازه بگیرید و مساحت آن را به طور تقریبی بدست آورید.

۶- در شکل های زیر مساحت قسمت رنگ شده را بدست آورید.



۷- مرضیه ۹ سال دارد. ریحانه از دو برابر سن مرضیه ۴ سال کوچک تر است. اختلاف سن آن ها با هم چند سال است؟

۸- مجموع سه ضلع یک مربع ۱۸ سانتی متر است. مساحت این مربع چند سانتی متر مربع است؟

۹- حاصل جمع های زیر را از راه فرایندی بدست آورید.

$$\begin{array}{r} ۲۷۱۴ \\ + ۲۵۲ \\ \hline \end{array}$$

$$\begin{array}{r} ۶۸۱۲ \\ + ۱۰۸۳ \\ \hline \end{array}$$

۱۰- حاصل تفریق های زیر را از راه تکنیکی بدست آورید.

$$\begin{array}{r} ۹۸۰۷ \\ - ۲۳۶۹ \\ \hline \end{array}$$

$$\begin{array}{r} ۶۰۰۱ \\ - ۲۴۳۶ \\ \hline \end{array}$$

$$\begin{array}{r} ۳۶۵۴ \\ - ۲۹۳۱ \\ \hline \end{array}$$

علوم

۱-در کدام مورد ، نیرو به صورت هل دادن و کشیدن است ؟

الف)جارو زدن ب) فشردن زنگ ج) کشیدن میز د) یویو بازی

۲-در کدام مورد نیرو سبب تغییر شکل جسم می شود ؟

الف)گرفتن توپ ب)فشردن بادکنک
ج)بازی یویو د)کشیدن کشو

۳-کدام کار با کمک نیروی کشش زمین صورت می گیرد؟

الف)پایین آمدن از پله ب)بالا بردن وزنه
ج)برداشتن چمدان از روی زمین د)کشیدن جعبه روی زمین

۴-ریشه ی کدام گیاه با بقیه متفاوت است ؟

الف)لوبیا ب)گندم ج)نخود د)عدس

۵-از رشد گیاه به وجود می آید.

الف)دانه ب)گل ج)میوه د)ریشه

۶-برگ درخت کاج چگونه است ؟

الف)پهن ب)سوزنی ج)باریک و بلند د)کلفت و بلند

۷-کدام گیاه ، گل دار نیست ؟

الف)آلبالو ب)سرو ج)گلابی د)انگور

۸-کدام یک ریشه ی خوراکی دارد ؟

الف)سیب ب)ذرت ج)چغندر د)اسفناج

۹-کدام یک کار ریشه گیاه نیست ؟

الف)نگه داشتن گیاه در خاک ب)تنفس گیاه
ج)گرفتن مواد لازم از خاک د)جذب آب از خاک

۱۰-ساقه گیاهانی مانند لوبیا چگونه است ؟

الف)علفی و سبز ب)چربی و ضخیم ج)قهوه ای و بلند د)نازک و چوبی

موفق باشید.