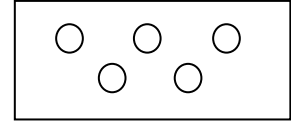
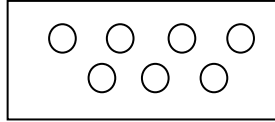
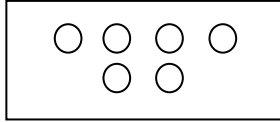




تکلیف	تاریخ	پایه	نام و نام خانوادگی
یک چهارم دوم کتاب ریاضی و علوم و فارسی	۹۷/۶ / ۸	اول	

ریاضی

۱- کدام دسته بیشتر است؟

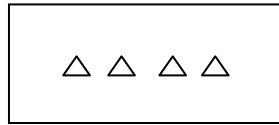
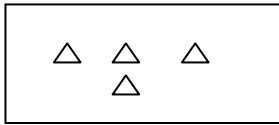


(۳)

(۲)

(۱)

۲- هر دو دسته روی هم چند تا می شود؟



(۳) تا ۸

(۲) تا ۷

(۱) تا ۶

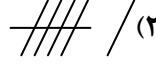
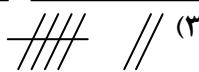
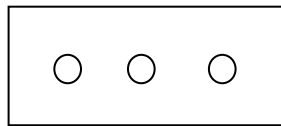
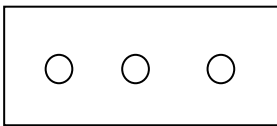
۳- ترتیب کدام عدد ها درست است؟

(۱) ۰-۱-۲-۳-۵-۴-۶-۷

(۲) ۱-۲-۳-۴-۸-۷-۶

(۳) ۰-۱-۲-۳-۴-۵-۶-۷

۴- کدام چوب خط نشان دهنده ی تعداد دو دسته است؟



۵- این علامت (=) به معنی چیست؟

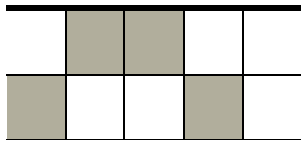
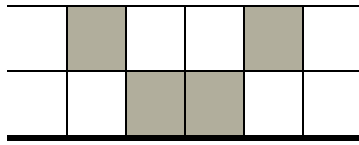
(۱) مساوی

(۲) برابر


(۳) گزینه ۱ و ۲ صحیح است.

۶- چه عددی قبل از عدد ۷ است؟

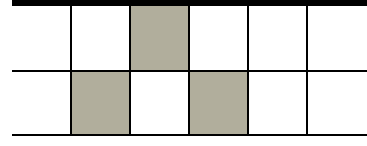
۷- نیمه ی دیگر این شکل کدام است؟



(۳)

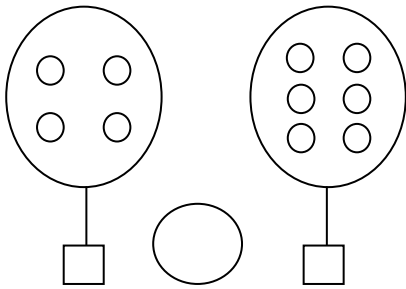


(۲)



(۱)

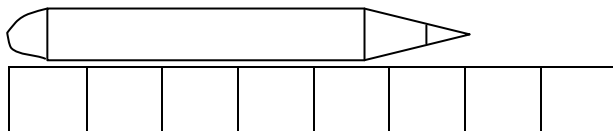
۸- عدد و علامت مناسب (<=>) بگذارید.



۹- جدول شگفت انگیز را کامل کنید.

۴		۲	۱
۲		۳	
۱	۲		
		۱	۲

۱۰- طول مداد برابر چند چینه است؟



فارسی

۱- با هر دو کلمه یک جمله بنویسید:

مریم- بیاید:

مادرم- زیارت:

۲- بخش دوم کلمه های زیر را بنویسید:

قَر + ←

فا + ←

سُف + ←

۳- کدام جمله درست است ؟

(۱) آسمان ابری شد (۲) می دوزد سارا دامن (۳) بز شیر می دوشد

۴- کدام یک با نشانه ی (ای) کامل می شود ؟

(۱) بود (۲) ران (۳) مد

۵- کدام یک با نشانه (ه) کامل می شود؟

(۱) نرد. (۲) پروان. ... (۳) ایستاد.

۶- (ای) آخر مستقل به کدام گزینه می تواند اضافه شود ؟

(۱) مداد- کاسه- دبستان

(۲) مدرسه- نامه- ستاره

(۳) نرده- میوه- نانوا

۷- در کدام دسته از کلمات (ی- ی) صدای (ای) می دهد؟

(۱) امین- شانه- روی

(۲) سایه- برای- سینی

(۳) سیب- شیرینی- ایران

۸- با توجه به جمله ی اول بقیه ی جملات را کامل کنید.

من کدو می کارم.

سارا

ما

شما

۹- در جای خالی کلمه ی مناسب بنویسید.

داوود کشاورزی (میکنم - می کند)

من برای دوستم نامه (می نویسم - می نویسد)

۱۰- کلمه ها را بخوانید و آن ها را در جای مناسب بنویسید.

سوت- زنبور- میوه- سوار- کبوتر- کشاورز- روستا- کشور

او-و	
و	

علوم

۱- به جانورانی که علف می خورند چه می گویند؟

۲- جانوری نام ببرید که گوشت خوار است؟

۳- مار چگونه حرکت می کند؟

۴- چرا جانوران حرکت می کنند؟

۵- کدام جانور با زبان شکار می کند؟

۳) اردک

۲) قورباغه

۱) لاک پشت

۶- یک جانور نام ببرید که مهاجرت می کند.

۷- قسمت های مختلف یک گیاه را نام ببرید.

۸- یک ریشه خوراکی نام ببرید.

۹- یک ساقه خوراکی نام ببرید.

۱۰- باران چگونه تشکیل می شود؟

موفق باشید.